

ВСЕРОССИЙСКАЯ ОЛИМПИАДА ШКОЛЬНИКОВ ПО ИСТОРИИ
2018-2019
Школьный этап
5 КЛАСС

КЛЮЧИ

1. По какому принципу образованы ряды. Дайте краткий ответ.

За каждый правильный ответ 1 балл. Всего 2 балла.

1.1. Российские полководцы, военачальники.

1.2. Титулы правителей.

2. Что или кто является лишним в ряду? Объясните свой выбор.

За каждый правильный ответ 1 балл, за объяснение выбора 2 балла. Всего 9 баллов.

2.1. Иван Грозный, в отличие от других имел царский титул, остальные – великие князья.

2.2. И.В. Курчатов – ученый, создатель атомного оружия. Остальные – космонавты.

2.3. Земледелие – производящий труд, остальное – присваивающий труд.

3. Заполните пропуски в предложениях, используя слова, которые даны ниже.

По 2 балла за каждое правильно вставленное слово. Всего 10 баллов.

Учёные считают, что от (1) **австралопитека** произошёл первый человек – «человек (2) **прямоходящий**» 2,5 миллиона лет назад.

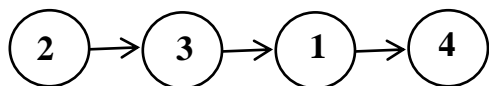
Затем, 1,5 млн. лет назад, появился человек (3) **умелый** за ним – человек разумный – (4) **неандерталец** (примерно 250 тысяч лет назад) и человек разумный – (5) **кроманьонец** (в Европе приблизительно 40 тысяч лет назад).

4. Назовите форму объединения первобытных людей, описанного учёным. Всего 6 баллов.

4.1. РОДОВАЯ ОБЩИНА. 3 балла.

4.2. СОСЕДСКАЯ ОБЩИНА. 3 балла.

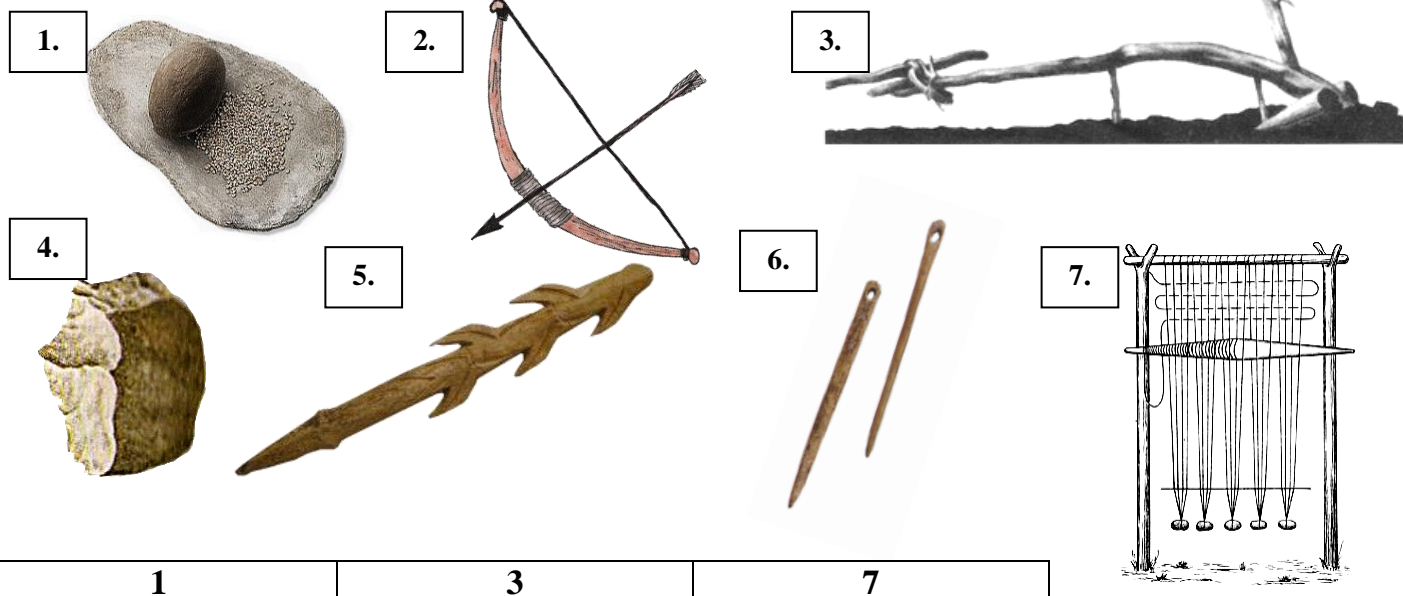
5. Составьте логическую цепочку: определите, что было началом и что следствием. За полностью правильно установленную последовательность 5 баллов.



При любом количестве ошибок **0 баллов**.

6. Рассмотрите рисунки орудий труда и выполните задания 6.1.-6.3. Всего 10 баллов.

6.1. Выберите орудия труда, относящиеся к производящему хозяйству. Запишите в таблицу номера выбранных рисунков. **3 балла.**



За каждую правильно указанную позицию **1 балл.**

6.2. Запишите определение понятия «производящее хозяйство». **4 балла.**

Производящее хозяйство – это такое хозяйство, где главным источником существования человека являются выращиваемые им культурные растения и домашние животные.

6.3. ГАРПУН. **1 балл.** Орудие труда для ловли рыбы. Благодаря зубцам рыба не соскальзывала. **2 балла.**

7. Прочитайте текст и выполните задания 7.1. – 7.5. Всего 7 баллов.

7.1. Могут быть названы любые 6 ремесленных специальностей из следующего списка: СКУЛЬПТОР, ЮВЕЛИР, МЕДНИК, КАМЕНОТЕС, БРАДОБРЕЙ, СТРОИТЕЛЬ СТЕН, ТКАЧ.

Ответ «земледелец» не принимается.

Критерии оценивания:

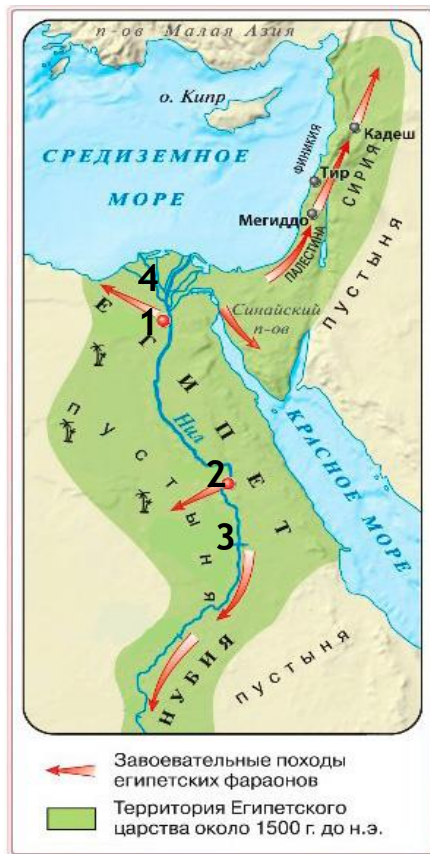
названы 1-2 специальности – **1 балл**;
названы 3-4 специальности – **2 балла**;
названо 5 специальностей – **3 балла**;
названо 6 специальностей – **4 балла**.

7.2. ПИСЕЦ. **1 балл**

7.3. Преимущества должности:

- пользуется уважением в обществе («Когда он еще ребенок, уже приветствуют его»);
- не занимается грязной и тяжелой работой («...не возвращается он, чтоб надеть передник»);
- выше по положению, чем ремесленники и земледельцы («...ибо он сам начальник»).

За полный правильный ответ **2 балла**, частичный ответ – **1 балл**.



8. Рассмотрите карту и выполните задания 8.1-8.5. Всего 6 баллов.

8.1. Напишите название моря, которое омывает Египет на востоке. КРАСНОЕ. **1 балл.**

8.2. Напишите название материка, на территории которого располагался Древний Египет. АФРИКА. **1 балл.**

8.3. Напишите цифру, которой на карте обозначена дельта Нила. 4. **1 балл.**

8.4. Напишите название города, обозначенного на карте цифрой «1». МЕМФИС. **1 балл.**

8.5. Что на карте обозначают цифры «2» и «3»? Сначала напишите цифру, а потом то, что она обозначает.
2 – г. ФИВЫ. **1 балл.**

3 – 1-й порог Нила. **1 балл.**

Максимальный балл за работу - 55.