

Всероссийская олимпиада школьников. 2020-2021 учебный год.

Искусство / МХК. Школьный этап.

9-10 классы.

Продолжительность – 90 минут

Задание 1. (1 балл)

Выбери правильный вариант ответа:

Гениальный голландский живописец, работы которого потрясают своим психологизмом и проникновением вглубь человеческой души, мастерски использовал светотень как средство художественной выразительности. Этот приём был одним из характерных в манере художника. Это:

- А) Клод Моне
- Б) Рембрандт Харменс ван Рейн
- В) Питер де Хох
- Г) Эдуард Мане

Ответ: _____

Задание 2. (4 балла)

Прочтите интересные факты об одном итальянском художнике и учёном, одном из крупнейших представителей искусства Высокого Возрождения.

- ❖ Он виртуозно играл на лире.
- ❖ Первым объяснил, почему небо синее.
- ❖ В одинаковой степени хорошо владел правой и левой руками. Говорят даже, что он мог одновременно писать разные тексты разными руками. Однако большинство трудов он написал левой рукой справа налево.
- ❖ Считается, что он был вегетарианцем.
- ❖ Часто ему приписывается фраза «Если человек стремится к свободе, почему он птиц и зверей держит в клетках?.. человек воистину царь зверей, ведь он жестоко истребляет их.»
- ❖ В своих знаменитых дневниках писал справа налево в зеркальном отражении.
- ❖ В числе его увлечений были даже кулинария и искусство сервировки. В Милане на протяжении 13-ти лет он был распорядителем придворных пиров. Он изобрёл несколько кулинарных приспособлений, облегчающих труд поваров.


Узнали, о ком шла речь? Отметьте четыре картины, которые написал этот человек.

- а) «Святая Анна с Мадонной и младенцем Христом»
- б) «Иоанн Креститель»
- в) «Мадонна с щегленком»
- г) «Сикстинская мадонна»
- д) «Дама с горностаем»
- е) «Мадонна с гвоздикой»

Ответ: _____

Задание 3. (2 балла)

Глядя на эти произведения искусства, отметьте два пункта, в которых верно указаны варианты имени того, с кем связаны эти шедевры.




- а) Иуда Искарriot
в) Иоанн Креститель

- б) Иосиф Обручник
г) Иоанн Предтеча

Ответ: _____

Задание 4. (2 балла)

На рисунке представлены некоторые Белокаменные памятники, расположенные во Владимирской области. С 1992 года они находятся в списке объектов Всемирного наследия ЮНЕСКО.



Они относятся к:

- а) новгородской архитектурной школе
б) владими́ро-суздальской архитектурной школе
в) московской архитектурной школе
г) петербургской неоклассической школе

Ответ: _____

Задание 5 (6 баллов)

Определите по описанию жанры театра:

1. Какой жанр древнегреческого театра получил свое наименование от блюда?
2. Какой жанр родился в середине XIX в. в Англии в результате слияния оперетты и музыкальной комедии?
3. Какой веселый жанр родился в небольшом нормандском местечке Ванде-Вир?

Ответ:

1. _____
2. _____
3. _____

Задание 6 (10 баллов)

Определите, о каком танце идет речь:

1. Назовите самый древний массовый танец-игру, свойственный всем народам.
2. Старинная русская пляска, основными движениями которой являются притопывания и присядка с выбрасыванием ног.
3. Этот танец создали специально для фильма «Грек Зорба» в 1964, после этого он стал одним из символов Греции.
4. Название данного танца переводится как "соус".
5. Название этого танца возводят к языку нигерийского народа ибибио, где оно значило «танец под звук барабана», и исполнялся изначально только мужчинами.

Ответ:

1. _____
2. _____
3. _____
4. _____
5. _____

Задание 7 (25 баллов)

	
(илл. N 1)	(илл. N 2)
репродукция первого портрета	репродукция второго портрета

Таблица заданий и ответов

[illegible]

Задание 8.

Определите художественное полотно по фрагменту.



1. Определите автора работы, ее название, время создания и местонахождение в настоящее время. Назовите жанр работы. (4балла)
2. Опишите, что изображено на полотне, каково содержание работы? (До 10 баллов)
3. Охарактеризуйте общую композицию работы, перечислите изображенных на ней персонажей. (до 10 баллов)
4. Кто изображен на представленном фрагменте работы? Какую часть в композиции занимает этот фрагмент? Какой смысл вложен в изображение? (6-10 баллов)
5. Охарактеризуйте художественные средства и материалы, использованные при создании работы. (5 баллов)
6. Назовите другие произведения этого автора, созданные в таком же жанре. (по 1 баллу за каждое произведение)

Ответ:

1. _____

2. _____

3. _____

4. _____

5. _____


6. _____

Задание 9 (до 30 баллов)

Творческое задание:

Рассмотрите живописное произведение П. Пикассо «Гитара».

Представьте, что данное произведение воспринимают два человека, и у одного складывается положительное мнение о произведении, а другому данное произведение не нравится.



1. Опишите, что мог бы сказать человек, у которого сформировалась положительная оценка этого произведения (в пределах 15-ти предложений), его эмоциональное впечатление, делая акцент на анализ средств художественной выразительности.
2. Опишите, что мог бы сказать зритель, у которого сформировалась противоположная оценка (в пределах 15-ти предложений), представьте его эмоциональное впечатление и анализ средств художественной выразительности произведения.

Положительная оценка	Отрицательная оценка