

Школьный этап. 9 класс

Время выполнения работы – 90 минут, максимальный балл за работу – 80.

1. Выберите один правильный ответ. Ответ внесите в таблицу (4 балла).

1. Что из перечисленного не относится к формам популяризации научного знания?

- а) научно-познавательные фильмы
б) фестивали занимательной науки
в) музейные экспозиции
г) специализированные научные конференции

2. Сибиряки, уральцы - это

- а) национальные общности
б) территориальные сообщества
в) этнические группы
г) профессионально-региональные группы

3. Какой пример иллюстрирует деятельность организаций гражданского общества?

- а) Парламент принял поправку к закону о средствах массовой информации.
б) Жители микрорайона создали общественную организацию, которая добилась отмены принятого решения о строительстве торгового центра на месте парка.
в) Депутаты законодательного собрания посетили несколько дошкольных учреждений.
г) Губернатор Нижегородской области инициировал проект по благоустройству общественных территорий «Вам решать!».

4. Что из перечисленного является примером правопрекращающего юридического факта?

- а) Макар открыл счет в коммерческом банке.
б) Ирина купила поддержанный автомобиль.
в) Мария уволилась с работы.
г) Андрей сдал свой гараж в аренду.

1	2	3	4

2. По какому принципу образованы ряды? (6 баллов).

А) Умозаключение, ощущение, представление, понятие. _____

Б) Интернационализация, транснациональные корпорации, Всемирный банк, интернет-сети. _____

В) Сотрудники подарили на день рождения коллеге сувенир, Анна украсила ёлку на Новый год, в школе прошла торжественная линейка перед началом учебного года, жители села встретили приехавшего с концертом певца хлебом-солью. _____

3. Запишите, что объединяет перечисленные элементы ряда и подчеркните элемент, который является лишним по данному основанию (6 баллов).

А) Конкуренция производителей, директивность, многообразие форм собственности, свобода предпринимательства, товарное разнообразие. _____

Б) Республика, область, автономный край, автономный округ, край. _____

4. «Да» или «нет»? Если вы согласны с утверждением, напишите «Да», если не согласны – «Нет». Внесите свои ответы в таблицу ниже. (10 баллов).

- а) Чтобы проиллюстрировать ограниченность возможностей человеческого познания, Платон использовал метафору пещеры.
б) Самосознание – это способность человека отражать объективную реальность в чувственных и логических образах.
в) В современном мире не существует авторитарных политических режимов.

- г) Социальные нормы универсальны для всех существующих типов общества.
 д) Должность мирового судьи в РФ является выборной.

а	б	в	г	д

5. Напишите обществоведческие понятия, которые пропущены в приведенных ниже афоризмах. Всего три понятия. (6 баллов: за каждое правильно названное понятие 2 балла).

А) «Правительство не имеет никакой другой цели, кроме обеспечения прав ____». (Джон Локк).
 «_____ - это кража». (Пьер Жозеф Прудон). «Устойчивость обществу придают или цепи, или _____». (Фазиль Искандер).

Ответ: _____

Б) «_____ не в том, чтоб не сдерживать себя, а в том, чтоб владеть собой». (Ф.М. Достоевский).
 «Подлинная _____ состоит в том, чтобы иметь над собой власть». (Мишень де Монтень).
 «Большинство людей в действительности не хотят _____, потому что она предполагает ответственность, а ответственность большинство людей страшит». (Зигмунд Фрейд).

Ответ: _____

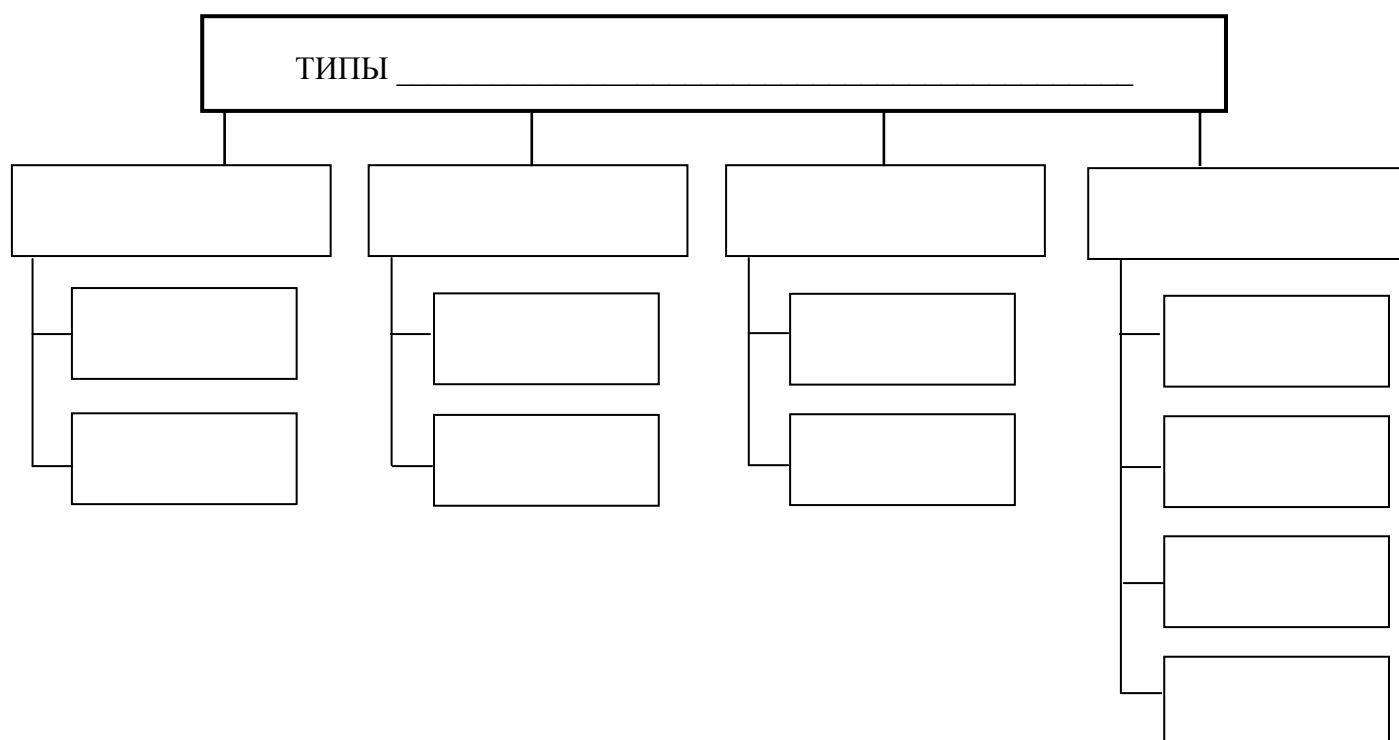
В) «_____ - это искусство жить вместе». (Платон). «_____ так же увлекательна, как и война. Но более опасна. На войне вас могут убить лишь однажды, в _____ - множество раз». (У. Черчилль). «В _____ приходится предавать свою страну или своих избирателей. Я предпочитаю второе». (Шарль де Голль).

Ответ: _____

6. Используя приведенные ниже слова, заполните схему. Ответ запишите цифрами в соответствующие ячейки схемы. Ответ, записанный словами, проверяться не будет. (16 баллов).

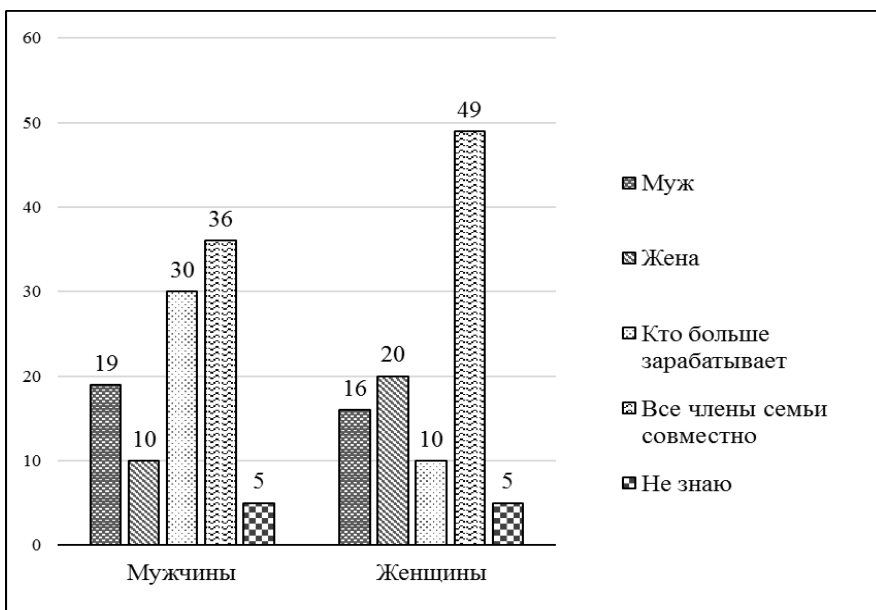
1) легальные; 2) анархистские; 3) массовые; 4) по отношению к действующей власти; 5) оппозиционные; 6) нелегальные; 7) консервативные; 8) по способу организации; 9) кадровые; 10) правящие; 11) по отношению к закону; 12) либеральные; 13) коммунистические; 14) по идейной направленности.

В заголовке схемы вместо пропуска запишите ключевое понятие.



7. Проанализируйте статистические данные и выполните задание. (6 баллов).

В стране Z социологической службой был проведен опрос совершеннолетних граждан. Им задавался вопрос: «Кто из членов семьи должен распоряжаться семейным бюджетом?» Результаты опроса (в % от числа опрошенных) представлены в виде диаграммы.



Сформулируйте на основе данных диаграммы не менее трех выводов о характере распределения семейного бюджета в семье (6 баллов: за каждый правильный вывод 2 балла).

8. Решите экономические задачи. (9 баллов).

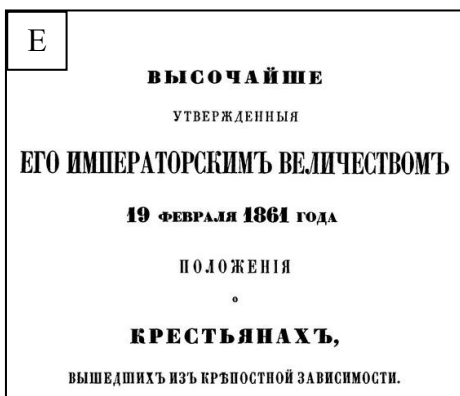
А) Депутат Ник Йанзен возмутился необоснованно завышенными, на его взгляд, ценами на бензин. Ник Йанзен предложил ввести потолок цен на бензин на уровне в 2 раза ниже равновесного, чтобы улучшить положение покупателей благодаря снижению цены. Его политический оппонент Денис Овалов считает, что в результате этого потребителям станет только хуже. Кто из депутатов прав, если рынок бензина является совершенно конкурентным? Приведите развернутое обоснование вашего ответа.

Б) На рынке смартфонов в Иксбурге существовал единственный продавец – ООО «Груша». Когда на рынок продажи смартфонов вошла фирма «Апельсин», цена вначале понизилась, однако через некоторое время вновь поднялась. 1) Какое понятие отражает тип рыночной структуры на данном рынке до появления на рынке фирмы «Апельсин»? 2) Какое понятие характеризует тип рыночной структуры на данном рынке после появления на рынке фирмы «Апельсин»?

9. Решите правовую задачу. (6 баллов).

17-летний Миша, работавший в фирме «Важные дела», заленился и решил не пойти на работу. Своему начальнику он отправил СМС-уведомление. Начальник Ярослав Никитич решил уволить Мишу из-за прогула, на что Миша ответил, что для прогула нужно пропустить более 4 часов работы. «Мой рабочий день составляет всего 3 часа, – сказал Миша, – поэтому меня нельзя уволить». Ярослав Никитич не послушал Мишу и подписал приказ о его увольнении. Прав ли Миша? Правомерно ли поступил Ярослав Никитич? Свои ответы обоснуйте.

10. Разделите представленные изображения на две группы и назовите каждую группу одним словом. Соотнесите предложенные изображения с названными вами группами. Группу, в которой будет изображение А, считать группой 1. (6 баллов).



Ответ:

Название группы 1

Название группы 2

Буквы _____

Буквы _____

11. Решите логическую задачу. Обязательно обоснуйте свой ответ. (5 баллов).

В кафе поставили 3 разных автомата, которые наливают напитки. В первом – кофе, во втором – чай, а в третий выдаёт случайным образом то кофе, то чай (потому что в жизни всегда должно быть место эксперименту). Для каждого из автоматов нужна 1 монета, чтобы получить напиток. На заводе перепутали маркировку автоматов, поэтому на каждом из них оказалась неправильная наклейка. Сколько монет понадобится находчивому инженеру, чтобы понять, где какой автомат? Свой ответ объясните. _____
