




КЛЮЧИ 7 класс 2020 – 2021

Теоретический тур в тестах. (Максимальное количество баллов – 40)

Внимательно прочитайте вопрос и выберите только один ответ. Выбранный вариант ответа обведите кружком. Исправления не допускаются. За каждый правильный ответ-2 балла.

№ п/п	Вопросы и варианты ответов	Количество баллов
1.	Что такое азимут? а) угол между направлением на север и направлением на ориентир; отсчитывается по ходу движения часовой стрелки от 0 до 360 б) угол между направлением на север и направлением на ориентир; отсчитывается по ходу движения часовой стрелки от 0 до 180; в) угол между направлением на север и направлением на ориентир; отсчитывается по ходу движения часовой стрелки от 0 до 90	А
2.	Какой сигнал обозначает «нужны карта и компас»? а)  б)  в) 	Б
3.	Какого цвета должна быть верхняя одежда туриста? а) однотонного цвета; б) яркая, демаскирующая; в) из камуфлированного материала.	Б
4.	Какими целебными свойствами обладает крапива и подорожник? а) снижают боль в месте ушиба; б) кровоостанавливающим действием; в) жаропонижающим свойством.	Б
5.	По каким местным признакам можно определить стороны горизонта? а) по сухой траве, направлению течения ручьев и рек, наезженной колее; б) по коре деревьев, лишайнику и мху, по таянию снега на склонах холмов и оврагов, по муравейникам. в) польням на водоемах, направлению ветра, направлению комлей валяющихся на дороге спеленных деревьев.	Б
6.	В каком созвездии находится Полярная звезда, и какое направление она указывает? а) в созвездии Малая Медведица и указывает на Север. б) в созвездии Малая Медведица и указывает на Юг. в) в созвездии Большая медведица и указывает на Север.	А
7.	Сейсмически опасные зоны это: а) зоны где существует опасность ураганов, бурь, смерчей; б) зоны где существует опасность землетрясений в) зоны где существует опасность наводнений	Б
8.	Во время грозы нельзя располагаться: а) в придорожном кювете; б) рядом с железнодорожным полотном; в) рядом с густым подлеском	Б
9.	Циклон это: а) это ветер большой разрушительной силы имеющий скорость свыше 32м/с; б) это плоский восходящий вихрь с низким атмосферным явлением в центре; в) это длительный очень сильный ветер со скоростью 20м/с.	Б
10.	Для измерения энергии выделяемой в очаге землетрясения введена шкала: а) Менделеева; б) Меркалли; в) Рихтера	В

11.	Можно ли перевозить восьмилетнего ребенка на велосипеде в качестве пассажира? а) можно; б) нельзя; в) можно, но только на специальном сиденье и при наличии упора для ног	Б
12.	Кто является участником дорожного движения: а) водители транспортных средств и лица, выполняющие работы на дороге; б) водители транспортных средств и пешеходы; в) водители и пассажиры транспортных средств и пешеходы.	В
13.	Как правильно пересекать проезжую часть велосипедисту: а) снизить скорость и проехать на велосипеде по пешеходному переходу; б) сойти с велосипеда и перейти по пешеходному переходу; в) правильные оба перечисленные варианта.	Б
14.	Вой сирен и непрерывные гудки предприятий и транспортных средств означают сигнал оповещения населения: а) «Внимание! Опасность!»; б) «Внимание всем!»; в) «Воздушная тревога!»	Б
15.	Если вы возвратились домой и обнаружили, что дверь приоткрыта и из квартиры слышны незнакомые голоса, то нужно: а) вместе с соседями войти в квартиру и задержать «визитеров»; б) войти в квартиру и спросить: «Кто здесь?»; в) закрыть дверь на ключ, не вынимая его из замка, и вызвать милицию.	В
16.	Три основных признака наркомании и токсикомании - это: а) психическая и физическая зависимость, изменение чувствительности к наркотику; б) вкусовая, психическая и биологическая зависимость; в) зрительная и химическая зависимость, изменение материального положения.	А
17.	При движении поезда в вашем вагоне появился, сильный запах гари и дыма. Как вы будете действовать: а) сообщите проводнику, соберете вещи и перейдете в другой вагон; б) дернете за рукоятку стоп-крана; в) сообщите проводнику, соберёте вещи и будете ждать указаний в купе.	В
18.	При аварийной посадке самолета надо: а) надеть спасательный жилет, руками упереться в спинку переднего сиденья, а голову зажать между коленями; б) руки сложить на животе, согнуться и поджать ноги; в) согнуться, наклонить голову как можно ниже и прикрыть руками, упереться ногами в спинку переднего сиденья.	В
19.	Вы вынуждены покинуть тонущее в море судно. Ваши действия: а) спуститься в свою каюту, одеться и ждать прихода аварийной команды корабля; б) выяснить у капитана причину происшедшего, надеть спасательный жилет, прыгнуть за борт и плыть к ближайшей лодке; в) одеться, обуться, положить деньги и документы в полиэтиленовый пакет и убрать его в карман, не паниковать, надеть спасательный жилет, выполнять все указания членов экипажа корабля, спуститься в спасательный плот.	В
20.	Антропогенные изменения в природе — это: а) изменения, происходящие в природе в результате чрезвычайных ситуаций природного характера; б) изменения, происходящие в природе в результате хозяйственной деятельности человека; в) изменения, происходящие в природе в результате воздействия солнечной энергии.	Б
Общее количество баллов за тур		

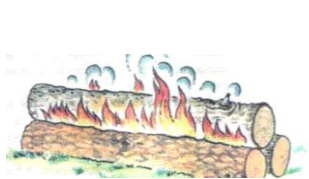
Теоретический тур в вопросах (Максимальное количество баллов – 40)

Задание 1

Для какого типа костра используют только толстые бревна? - № 2 название нодья



1



2



3



4

Какие ягоды, из изображенных на рисунках, есть нельзя? - № 3 название вороний глаз



1



2



3

Из змей, изображенных на рисунках, выбери не ядовитую - № 3 название уж



1



2




3

Какой жест регулировщика соответствует красному сигналу светофора –

№ 3 название движение ТС и пешеходам запрещено



1



2



3



4

Оценочные баллы: максимальный – 20 баллов; правильно выбранный номер ответа – 2 балла; правильно назван объект – 3 балла

Задание 2 Соедините стрелками вид кровотечения с соответствующими ему признаками.

Вид кровотечения	Признаки
Артериальное	Кровь тёмно вишнёвого цвета, обильно вытекает из раны
Венозное	Кровь сочиться из раны
Капиллярное	Ярко алая кровь, бьёт из раны фонтанообразной струёй

Оценочные баллы: максимальный – 5 баллов; при наличии хотя бы одной ошибки за задание выставляется 0 баллов

Задание 3 Вставьте пропущенные слова , так чтобы получилось законченное определение

Пешеход – лицо, находящееся вне транспортного средства на дороге и не производящее на ней работы. К пешеходам приравниваются инвалиды в инвалидных колясках без двигателя, а также лица, ведущие велосипед, мопед, мотоцикл, везущие санки, тележку, детскую или инвалидную коляску.

Оценочные баллы: максимальный – 5 баллов; за каждый правильно заполненный пропуск выставляется 1 балл

Задание 4 Запишите каждое понятие в нужную ячейку, так чтобы в каждой строке все они были взаимосвязаны между собой

Оболочка Земли	Природное явление	Группа природных явлений
литосфера	обвал	геологические
атмосфера	Смерч	метеорологические
гидросфера	цунами	гидрологические
биосфера	эпидемии	биологические

Оценочные баллы: максимальный – 10 баллов; за одну ошибку – 5 баллов, более одной ошибки – 0 баллов

Практический тур (Максимальное количество баллов – 20).

Учитывается полнота и правильность ответа. Ответ оценивается от 0 до 10 баллов

1. Запишите порядок оказания первой помощи при незначительных ранах

Промойте рану (порез, царапину) антисептическим средством или водой с мылом. (Антисептические средства — лекарственные средства, обладающие противомикробной активностью, например спиртовой раствор йода или раствор перекиси водорода.)

Для очистки загрязненных ран используйте чистую салфетку или стерильный тампон. Очистку раны начинайте с середины, двигаясь к ее краям.

Наложите небольшую повязку.

Помощь врача нужна только в том случае, если есть риск проникновения в рану инфекции.

1. Вы обнаружили у себя на теле клеща. Ваши действия

Намазать клеща маслом (вазелином), через 15-20 минут накинуть нитяную петлю на тело клеща и покачивающими движениями вытащить его, место укуса обработать йодом или спиртом. Клеща сжечь или залить кипятком. Обратиться к врачу.

Максимальное количество баллов за все задания – 100