

1. Выберите один правильный ответ. Ответы в виде цифр запишите в таблицу ниже. Максимум 6 баллов (по 2 балла за каждый правильный ответ).

1.1. Прочитайте отрывок из документа и укажите его автора.

«Ведайте, все христолюбцы и боголюбцы, как все христианские царства пришли к концу и сошлись в едином царстве нашего Государя... два Рима пали, а третий стоит, а четвертому не быти...внеми, благочестивый царь, как православная вера сошлась в твое единственное царство; один ты во всей поднебесной христианский царь, и твое христианское царство иным не станется».

- 1) Аввакум 2) Нил Сорский 3) Филофей 4) Иосиф Волоцкий

1.2. Прочитайте фрагмент из летописи и укажите век, когда происходило описываемое в отрывке событие.

«О деньгах. Тоя же зимы князь великий и мати его великая княгиня, видев неправду в людях, денег умножися поддельных и резаных, и восхоте то лукавство из своего государства вывести, и посоветовал о том с боярами, и повелел государь и его мати делати деньги новые...а старые деньги и поддельные и резаные переделывать...»

- 1) XV в. 2) XVI в. 3) XVII в. 4) XVIII в.

1.3. Прочитайте отрывок из воспоминаний и назовите автора.

«Чем больше я играл Бориса Годунова, Грозного, Досифея, Варяжского гостя и Голову в "Майской ночи", тем более я убеждался, что артист в опере должен не только петь, но и играть роль, как играют в драме. В опере надо петь, как говорят. Впоследствии я заметил, что артисты, желавшие подражать мне, не понимают меня. Они не пели, как говорят, а говорили, как поют».

- 1) С.И. Мамонтов 2) С.В. Рахманинов 3) С.П. Дягилев 4) Ф.И. Шаляпин

1.4. Прочитайте фрагмент исторического источника и укажите государственного деятеля, о котором идет речь?

Тогдашний министр финансов часто приводил свою излюбленную метафору, утверждая, что «железная дорога в экономическом организме имеет то же значение, какое в телесном организме приписывается кровообращению, доставляющему во все уголки его питательные вещества. Но при этом нельзя искусственно изменять кровообращение, направляя его в одни части организма за счет других частей».

- 1) С.Ю. Витте 2) П.А. Столыпин 3) В.К. Плеве 4) К.П. Победоносцев

Ответ:

1.1.	1.2.	1.3.	1.4.

2. Установите правильную хронологическую последовательность. Максимум 9 баллов (по 3 балла за каждую правильно установленную последовательность).

2.1. События истории Нижегородского края:

А. Летом в Нижний Новгород по Волге приплыл тверской купец Афанасий Никитин и жил в городе две недели.

Б. Едигей разгромил и пожег Нижний Новгород и Городец. «Жителей Нижнего Новгорода частью умертвили, частью взяли в плен, угнав их перед конниками как псов»

В. В Нижний Новгород въехал Великий князь Московский Василий Дмитриевич, княжество потеряло свою самостоятельность.

Г. На реке Пьяне в сражении ордынский царевич Арапша разгромил русское войско, утонул в Пьяне сын князя Дмитрия – Иван.

Д. Нижний Новгород стал столицей Суздальско-Нижегородского княжества.

Ответ:

--	--	--	--	--

2.2. Мероприятия правительства по крестьянскому вопросу в XIX веке:

- А. Издание Положения о крестьянах, вышедших из крепостной зависимости.
Б. Издание указа о вольных хлебопашцах.
В. Учреждение Крестьянского банка.
Г. Реформа государственной деревни.
Д. Отмена крепостного права в Прибалтике.

Ответ:

--	--	--	--	--

2.3. Появление памятников древнерусской литературы:

- А. «Слово о полку Игореве».
- Б. «Поучение Владимира Мономаха».
- В. «Задонщина».
- Г. «Слово о Законе и Благодати».
- Д. «Слово о погибели Русской земли».

Ответ:

--	--	--	--	--



3. Рассмотрите изображение и выполните задания. Максимум 3 балла.

3.1. Какому событию посвящена данная марка? (1 балл).

3.2. Используя изображение, приведите одно обоснование Вашего ответа. (2 балла).

4. В представленном ниже списке перечислены народные выступления, происходившие в России по разным причинам в XVI-XX вв. Установите соответствие между народными выступлениями, бунтами и столетиями, когда они происходили. Ответ запишите в соответствующие ячейки таблицы. Максимум 10 баллов (по 1 баллу за каждое правильно установленное соответствие).

- 1) Стрелецкий бунт в Москве.
- 2) Морозовская стачка.
- 3) Московское восстание против правительства Глинских.
- 4) «Обуховская оборона».
- 5) Восстание под предводительством Е.И. Пугачева.
- 6) Беспорядки в Угличе.
- 7) Восстание Соловецкого монастыря.
- 8) Восстание матросов на броненосце «Князь Потемкин-Таврический».
- 9) Чумной бунт в Москве.
- 10) Бунты военных поселян.

Ответ:

XVI B.		XVII B.		XVIII B.		XIX B.		XX B.	

5. Установите соответствие между партийными лидерами XX в. и их высказываниями по вопросу о заключении сепаратного мира с Германией. Обратите внимание, что одно положение в правом столбце является «лишним». Ответ в виде цифр запишите в таблицу ниже. Максимум 6 баллов.

ЛИДЕРЫ

- А) В.И. Ленин
- Б) Н.И. Бухарин
- В) Л.Д. Троцкий

ВЫСКАЗЫВАНИЯ О ЗАКЛЮЧЕНИИ СЕПАРАТНОГО МИРА С ГЕРМАНИЕЙ

- 1) «...всемирное стремление довести мировую войну до решительной победы лишь усилилось благодаря сознанию общей ответственности всех и каждого. Это стремление стало более действительным, будучи сосредоточено на близкой для всех и очередной задаче отразить врага, вторгнувшегося в самые пределы нашей родины».
- 2) «Заключая сепаратный мир, мы в наибольшей степени ...получаем известный период развязанных рук для продолжения и закрепления социалистической революции».
- 3) «Пусть немцы нас побьют. Сохраняя свою социалистическую республику, мы проигрываем шансы международного движения. ...Русская революция либо будет спасена международной революцией, либо погибнет под ударами международного капитала».
- 4) «Договора не подписываем, военных действий не ведем, армию демобилизуем. Попытка немецкой военной машины расправиться с безоружной Россией вызовет революцию в Германии».

Ответ:

А	Б	В

6. Заполните пропуски в тексте. Ответы запишите в таблицу ниже. Максимум 12 баллов (по 2 балла за каждый верный ответ).

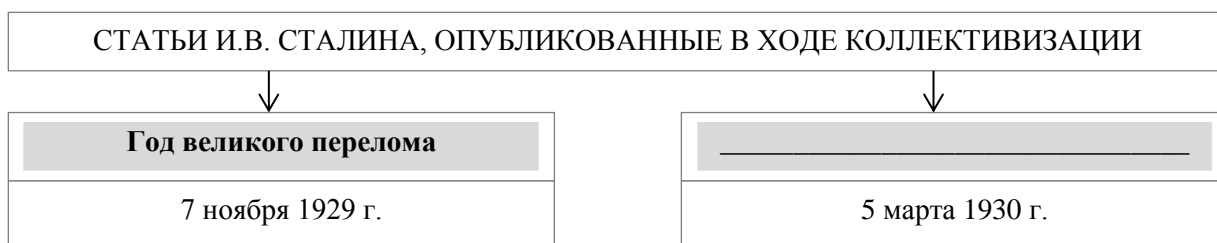
К 1760 году русская армия, самая многочисленная и одна из самых боеспособных в Европе, достигла значительных успехов в масштабном общеевропейском конфликте, который вошёл в историю как ____ (1 – название войны) война. Главный противник России в этой войне, ____ (2 – государство), потерпел несколько чувствительных поражений и уступил русским войскам ряд территорий. Король ____ (3 – имя короля) II, несмотря на репутацию талантливого полководца, находился в отчаянии и признавался, что «считает всё потерянным». Русские подразделения даже вошли во вражескую столицу, ____ (4 – город), правда, вскоре отступили, успев уничтожить ряд стратегически важных объектов в городе. Россия готовилась присоединить оккупированные ей территории на Балтике.

Перелом в войне наступил неожиданно. В декабре ____ (5 – год) года скончалась русская императрица ____ (6 – имя и отчество), и на престол взошёл Пётр III. Из соображений личных симпатий к королю враждебной страны он в корне переменял курс внешней политики России: разорвал связи с союзниками, подписал сепаратный мир и вернул вчерашнему противнику все завоёванные Россией земли. Это ухудшило отношение российских элит к и без того непопулярному новому императору и приблизило его скорое свержение».



Ответ:

1		4	
2		5	
3		6	

7. Запишите название, пропущенное в схеме. Максимум за задание 2 балла.



8. Рассмотрите исторические карикатуры, плакаты. Укажите с точностью до года, когда они появились. С какими событиями связано их появление? Ответы запишите в таблицу. Максимум 10 баллов (по 1 баллу за каждый правильный ответ).



Ответ:

	Год	Событие
1		
2		
3		
4		
5		