






































Всероссийская олимпиада школьников по технологии
2021- 2022 учебный год
Раздел «Культура дома. Декоративно-прикладное творчество»
6 класс (девочки)

№ п/п	Вопрос	Оценка вопроса в баллах	Оценка жюри																														
Тестовые задания		25																															
1.	Отгадайте загадку. Как называется продукт, который едят как хлеб и используют как салфетку? Ответ: _____	1																															
2.	Установите соответствие между продуктом и его видом. <table><tr><td>1</td><td>ряженка</td><td>А</td><td>пряность</td></tr><tr><td>2</td><td>перепёлка</td><td>Б</td><td>орех</td></tr><tr><td>3</td><td>кешью</td><td>В</td><td>птица</td></tr><tr><td>4</td><td>ваниль</td><td>Г</td><td>рыба</td></tr><tr><td>5</td><td>сайда</td><td>Д</td><td>напиток</td></tr></table> Ответ: <table><tr><td>1</td><td>2</td><td>3</td><td>4</td><td>5</td></tr><tr><td></td><td></td><td></td><td></td><td></td></tr></table>	1	ряженка	А	пряность	2	перепёлка	Б	орех	3	кешью	В	птица	4	ваниль	Г	рыба	5	сайда	Д	напиток	1	2	3	4	5						1	
1	ряженка	А	пряность																														
2	перепёлка	Б	орех																														
3	кешью	В	птица																														
4	ваниль	Г	рыба																														
5	сайда	Д	напиток																														
1	2	3	4	5																													
3.	Рассмотрите рисунок и ответь на вопрос, какой напиток готовят из плодов данного дерева. А) чай; В) какао; С) кофе; Д) цикорий Ответ: _____ 	1																															
4.	Решите задачу и запиши ответ. Торговая сеть предоставляет семьям с детьми до 10 лет по четвергам скидку 10 %. Сколько нужно будет заплатить в четверг маме семилетней девочки за пакет молока по цене 60 рублей? Решение: _____ Ответ: _____	2																															
5.	Определите ткань по её описанию. Это хлопчатобумажная, шерстяная или полушерстяная ткань, характеризующаяся полотняным или саржевым переплетением, с редким и пушистым начесом. В народе называется «зимний хлопок». Из неё обычно шьют теплое белье, в т. ч. детское, женские халаты, мужские рубашки. А) шифоновая ткань; В) атласная ткань; С) фланелевая ткань; Д) шелковая ткань. Ответ: _____	1																															
6.	Какие приводы бывают у швейных машин? Ответ: _____	1																															
7.	Рассмотрите картинки и найдите ту картинку, где изображён дефект печати ткани – засечка. <table><tr><td>А</td><td>Б</td><td>В</td><td>Г</td></tr><tr><td></td><td></td><td></td><td></td></tr></table> Ответ: _____	А	Б	В	Г					1																							
А	Б	В	Г																														
																																	
8.	Разгадайте и напишите зашифрованное слово: Ж О Т Е К С Ответ: _____	1																															

	Разгадайте и напишите зашифрованное слово: М А К Е Н Н Е Ответ: _____	1																															
9.	Решите ребус, получите название оборудования для изготовления декоративно-прикладного изделия. <div></div> Ответ: _____	1																															
	Для чего используется это оборудование? Выберите один правильный ответ. <table><tr><td>А</td><td>Б</td><td>В</td><td>Г</td></tr><tr><td>влажно-тепловая обработка изделия</td><td>раскрой изделия</td><td>натягивание ткани, на которой вышивают</td><td>проведение примерки</td></tr></table> Ответ: _____	А	Б	В	Г	влажно-тепловая обработка изделия	раскрой изделия	натягивание ткани, на которой вышивают	проведение примерки	1																							
А	Б	В	Г																														
влажно-тепловая обработка изделия	раскрой изделия	натягивание ткани, на которой вышивают	проведение примерки																														
10.	Существуют общепринятые сокращения для записи мерок для пошива одежды. Как модельер–конструктор одежды для животных запишет мерку «длина хвоста»? Ответ: _____	1																															
11.	Как называются пищевые продукты, о которых говорится в отрывке из стихотворения? «В коровьем молоке богатство ваше, А также в сыре, масле, простокваше. И вы, конечно, отрицать не станете: В кефире молодость, а красота – в сметане». Ответ: _____	1																															
12.	<div></div> Как называется русский народный промысел, родившийся в Московской губернии, который представляет собой производство керамики и фарфора, расписанных синими тонами по белому фону? Ответ: _____	1																															
13.	Установите соответствие между народными костюмами, изображёнными на рисунках, и местами их происхождения. <table><tr><th colspan="4">Народные костюмы</th></tr><tr><th>1</th><th>2</th><th>3</th><th>4</th></tr><tr><td></td><td></td><td></td><td></td></tr><tr><td>А</td><td>Б</td><td>В</td><td>Г</td></tr><tr><td>Россия</td><td>Голландия</td><td>Китай</td><td>Северная Америка</td></tr></table> Ответ: <table><tr><td>1</td><td>2</td><td>3</td><td>4</td><td>5</td></tr><tr><td></td><td></td><td></td><td></td><td></td></tr></table>	Народные костюмы				1	2	3	4					А	Б	В	Г	Россия	Голландия	Китай	Северная Америка	1	2	3	4	5						4	
Народные костюмы																																	
1	2	3	4																														
																																	
А	Б	В	Г																														
Россия	Голландия	Китай	Северная Америка																														
1	2	3	4	5																													

14.	<p>Установите соответствие между значками ухода за одеждой и тем, что они обозначают.</p> <table><thead><tr><th colspan="2">Значки</th><th colspan="2">Значение</th></tr></thead><tbody><tr><td>1</td><td></td><td>А</td><td>сушка разрешена</td></tr><tr><td>2</td><td></td><td>Б</td><td>не стирать</td></tr><tr><td>3</td><td></td><td>В</td><td>щадящая стирка</td></tr><tr><td>4</td><td></td><td>Г</td><td>ВТО при низкой температуре 110 °C</td></tr></tbody></table> <p>Ответ:</p> <table><tr><td>1</td><td>2</td><td>3</td><td>4</td><td>5</td></tr><tr><td></td><td></td><td></td><td></td><td></td></tr></table>	Значки		Значение		1		А	сушка разрешена	2		Б	не стирать	3		В	щадящая стирка	4		Г	ВТО при низкой температуре 110 °C	1	2	3	4	5						4	
Значки		Значение																															
1		А	сушка разрешена																														
2		Б	не стирать																														
3		В	щадящая стирка																														
4		Г	ВТО при низкой температуре 110 °C																														
1	2	3	4	5																													
15.	<p>Известно, что одежда может скрывать недостатки фигуры. Выберите из моделей поясных изделий, изображённых на рисунках, те, которые могут скрыть неидеальные ноги. Выберите все правильные ответы.</p> <table><tr><td>1</td><td>2</td><td>3</td><td>4</td></tr><tr><td></td><td></td><td></td><td></td></tr></table> <p>Ответ: _____</p>	1	2	3	4					2																							
1	2	3	4																														
																																	
16.	<p>Творческое задание.</p> <p>Вспомните, какие бывают салаты из свежих овощей, предложите свой вариант салата, состоящий из не менее чем 3-х компонентов.</p> <p>Перечислите всё необходимое:</p>	6																															
	<p>а) продукты: _____</p> <p>_____</p> <p>_____</p>	1																															
	<p>б) посуда: _____</p> <p>_____</p> <p>_____</p>	1																															
	<p>в) инструменты и приспособления: _____</p> <p>_____</p> <p>_____</p>	1																															
	<p>г) технологическая последовательность приготовления салата: _____</p> <p>_____</p> <p>_____</p> <p>_____</p>	2																															
	<p>д) предложения по оформлению салата (описание): _____</p> <p>_____</p> <p>_____</p> <p>_____</p>	1																															
Итого:		32=25+6																															