



Место для шифра

Всероссийская олимпиада школьников по ОБЖ, 2022-2023 учебный год

Школьный этап. 7 класс

Теоретический тур в тестах. (Максимальное количество баллов – 50)

Выберите только один ответ. Выбранный вариант ответа обведите кружком. За правильный ответ начисляется **2 балла**. Исправления не допускаются!

№ п/п	Вопросы и варианты ответов	Кол-во баллов
1.	Какая погода характерна в зоне действия циклона: А) ветреная, пасмурная, с выпадением осадков Б) малооблачная, без осадков, возможны небольшие ветра В) циклоны не влияют на характер погоды	
2.	День спасателя Российской Федерации отмечается: А) 23 февраля Б) 30 апреля В) 4 октября Г) 27 декабря	
3.	Горная болезнь может развиваться у человека в результате: А) кислородного голодания Б) солнечной радиации В) попадания в организм бактерий, содержащихся в горном воздухе	
4.	На какой картинке изображен катамаран?  <div style="display: flex; justify-content: space-around; margin-top: 10px;"> А) Б) В) </div>	
5.	Обеззараживание воды в полевых условиях осуществляется: А) фильтрованием Б) отстаиванием В) кипячением	
6.	Какая повязка используется для остановки кровотечения? А) укрепляющая Б) иммобилизирующая В) давящая Г) герметизирующая	
7.	Оказание первой помощи необходимо начинать с А) вызова скорой медицинской помощи Б) определения признаков жизни у пострадавшего В) оценки обстановки и обеспечения безопасных условий для её оказания Г) выяснения обстоятельств травмы	
8.	На какой картинке изображен «СТОП – КРАН»?  <div style="display: flex; justify-content: space-around; margin-top: 10px;"> А) Б) В) </div>	
9.	При аварийной посадке самолета надо: А) надеть спасательный жилет, руками упереться в спинку переднего сиденья, а голову зажать между коленями Б) надеть кислородную маску, руки сложить на животе, согнуться и поджать ноги В) согнуться, наклонить голову как можно ниже и прикрыть руками, упереться ногами в спинку переднего сиденья	
10.	Вы вынуждены покинуть тонущее в море судно. Ваши действия: А) спуститься в свою каюту и ждать прихода аварийной команды корабля; Б) выяснить у капитана причину происшедшего, надеть спасательный жилет, прыгнуть за борт и плыть к ближайшей лодке; В) одеться, положить деньги и документы в полиэтиленовый пакет и убрать его в карман, надеть спасательный жилет, выполнять все указания членов экипажа корабля, спуститься в спасательный плот.	

Задания с выбором нескольких вариантов ответов.






Выбранный вариант ответа обведите кружком

За каждый правильный ответ - **2 балла**, если среди выбранных ответов указан хотя бы один неправильный – за этот вопрос выставляется **0 баллов**.

№ п/п	Вопросы и варианты ответов	Максимальный балл	Фактический балл
1	Из каких знаков международной кодовой таблицы можно составить фразу: «Нужны вода, пища, карта и компас» А)  Б)  В)  Г) F Д) Y Е) W	4	
2	Укажите номера для вызова скорой медицинской помощи с сотового телефона А) 03 Б) 102 В) 112 Г) 103 Д) 04	4	
3	Какие типы костров можно использовать, как ночные? А) «Шалаш» Б) «Нодья» В) «Камин» Г) «Колодец» Д) «Звезда»	6	
4	Какие насекомые могут быть переносчиками инфекционных болезней? А) комары Б) пчелы В) клещи Г) шмели Д) осы Е) мухи	6	
5	Какие уровни террористической опасности существуют? А) повседневный («белый») Б) повышенный ("синий"); В) высокий ("желтый"); Г) критический ("красный"). Д) особо высокий («черный»)	6	
6	Какие признаки характерны для ожога второй степени? А) отёк, покраснение Б) наличие пузырей с прозрачным содержимым В) отсутствие чувствительности в месте повреждения Г) обугливание кожи и подкожной клетчатки Д) обугливание мягких тканей и частично костей	4	
	ВСЕГО ЗА ТЕСТОВУЮ ЧАСТЬ		

Теоретический тур в вопросах

Задание 1 Установите соответствие между изображением дорожного знака и его наименованием. Ответ выберите из предложенных вариантов и запишите его в таблицу в виде буквенного обозначения.

Дорожный знак					
Значение дорожного знака					

Значение дорожного знака (возможные варианты)

- А) «Стоянка велосипедов запрещена»
- Б) «Стоянка запрещена»
- В) «Велосипедная дорожка или полоса»
- Г) «Движение на велосипедах запрещено»
- Д) «Движение запрещено»
- Е) «Конец велосипедной дорожки или полосы»
- Ж) «Въезд запрещён»
- З) «Место отдыха»
- И) «Кемпинг»
- К) «Остановка запрещена»

Оценочные баллы: **максимальный** – 10 баллов, **фактический** _____

Задание 2 В каждой строке впишите оболочку Земли (там, где это необходимо) в которой возникает определенная группа природных явлений и приведите хотя бы один пример природных явлений, соответствующий указанной группе.

Оболочка Земли	Группа природных явлений	Примеры
	Геофизические	
	Геологические	
	Метеорологические	
	Гидрологические	
	Морские гидрологические	
	Природные	
	Биолого-социальные	
	Космические	

Оценочные баллы: **максимальный** – 10 баллов, **фактический** _____ баллов

Практический тур

Задание №1 Разработайте памятку по подготовке к эвакуации (не менее, чем из пяти пунктов).

Оценочные баллы: **максимальный** – 10 баллов, **фактический** _____ баллов

Задание №2 Во время отдыха на озере, на которое вы приехали на своем автомобиле вы определили, что на Вас надвигается гроза.

Запишите по каким признакам можно определить приближение грозы и что вы должны сделать, чтобы снизить риск для своей жизни и здоровья



Признаки приближения грозы _____

Ваши действия по обеспечению личной безопасности

Оценочные баллы: **максимальный** – 20 баллов, **фактический** баллов

Количество баллов за практический тур