

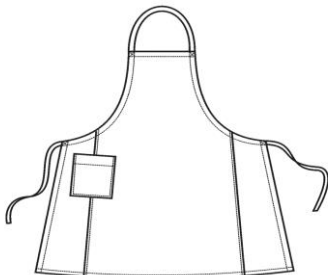













































**Всероссийская олимпиада школьников по технологии**

**2022- 2023 учебный год**

**Раздел «Культура дома. Декоративно-прикладное творчество»**

**6 класс (девочки)**

№ п/п	Вопрос	Оценка вопроса в баллах	Оценка жюри														
1.	<p><b>Как называется технология, о которой говорится в тексте?</b> «Впервые эта технология появилась в 1984 году в США, в то время этот метод назывался “стереолитография”. Сейчас эта технология используется для разработки и внедрения инновационных продуктов, в том числе в лёгкой промышленности. Например, недавно компания Adidas запустила производство кроссовок с подошвой, выполненной таким способом.</p> <p><b>Ответ:</b> _____</p>	1															
2.	<p><b>В какой последовательности выполняется раскрой фартука:</b></p> <table><tr><th>Этапы раскроя</th><th>№ этапа</th></tr><tr><td>Прикрепить булавками и произвести обмеловку по контуру выкройки</td><td></td></tr><tr><td>Определить направление долевой нити в ткани и лицевую и изнаночную сторону ткани</td><td></td></tr><tr><td>Раскроить по линиям припусков</td><td></td></tr><tr><td>Выполнить припуски на швы</td><td></td></tr><tr><td>Сложить ткань лицевой стороной во внутрь «в сгиб» или «в разворот»</td><td></td></tr><tr><td>Разложить крупные детали выкройки, затем - мелкие</td><td></td></tr></table>	Этапы раскроя	№ этапа	Прикрепить булавками и произвести обмеловку по контуру выкройки		Определить направление долевой нити в ткани и лицевую и изнаночную сторону ткани		Раскроить по линиям припусков		Выполнить припуски на швы		Сложить ткань лицевой стороной во внутрь «в сгиб» или «в разворот»		Разложить крупные детали выкройки, затем - мелкие		1	
Этапы раскроя	№ этапа																
Прикрепить булавками и произвести обмеловку по контуру выкройки																	
Определить направление долевой нити в ткани и лицевую и изнаночную сторону ткани																	
Раскроить по линиям припусков																	
Выполнить припуски на швы																	
Сложить ткань лицевой стороной во внутрь «в сгиб» или «в разворот»																	
Разложить крупные детали выкройки, затем - мелкие																	
3.	<p><b>Расшифруйте условные обозначения мерок, необходимых для пошива фартука:</b></p> <table><tr><th>Условное обозначение</th><th>Название мерки</th></tr><tr><td>Ст</td><td></td></tr><tr><td>От</td><td></td></tr><tr><td>Сб</td><td></td></tr><tr><td>Об</td><td></td></tr><tr><td>Ди</td><td></td></tr></table>	Условное обозначение	Название мерки	Ст		От		Сб		Об		Ди		1			
Условное обозначение	Название мерки																
Ст																	
От																	
Сб																	
Об																	
Ди																	
4.	<p><b>а) Приведите название кулинарного термина, обозначающего съедобную часть растений, о которых говорится в стихотворении Н. Анишиной:</b> «Вели однажды жаркий спор Горох, морковь и помидор. Кто для людей всего важней, Кто полезней, кто вкусней?»</p> <p><b>Ответ:</b> _____</p>	1															
	<p><b>б) Чем полезны эти пищевые продукты?</b></p> <p><b>Ответ:</b> _____</p>	1															
	<p><b>в) Назовите 3 блюда, в рецепт которых входит хотя бы один из пищевых продуктов, которые встречаются в пункте а).</b></p> <p><b>Ответ:</b> _____</p>	1															
5.	<p><b>Вставьте в текст пропущенное название овоща, который теперь считается «вторым хлебом».</b></p> <p><b>а) Введение _____ в сельское хозяйство Европы протекало медленно. Хотя европейцы познакомились с _____ в Новом Свете уже в XVI веке, только к концу XVII века он начинает занимать заметное место в сельском хозяйстве Англии, а в других странах появляется ещё позднее. Введение новой культуры сталкивалось с сопротивлением крестьянства.</b></p> <p><b>Ответ:</b> _____</p>	1															

	б) Напишите 3 блюда, для приготовления которых используется этот овощ: Ответ: _____ _____ _____	1							
6.	Какие приводы бывают у швейных машин? Ответ: _____	1							
7.	а) Каким швом выполняют соединение кармана с фартуком из хлопчато-бумажной ткани?  Ответ: _____	1							
	б) Сделайте графическое изображение или схему шва из пункта а).	1							
8.	Вставьте в текст стихотворения А. Солодовникова название растения, используемого для производства волокна а) _____, голубой цветочек, Сколько муки тебе суждено. Мнут тебя, трепят и мочат, Из травинки творя полотно. Ответ: _____	1							
	б) Выберите знаки ухода за одеждой из ткани, изготовленной из этого волокна: <table border="1" data-bbox="300 1229 930 1456"><tr><td>А</td><td>    </td></tr><tr><td>Б</td><td>    </td></tr><tr><td>В</td><td>    </td></tr></table>	А	    	Б	    	В	    	1	
А	    								
Б	    								
В	    								
9.	Перечислите признаки, по которым можно определить лицевую сторону ткани: Ответ: _____ _____ _____	1							
10.	а) О какой исчезающей профессии идёт речь в стихотворении? Чистые полотенца для носов и щёчек, Сухие простынки для сладкого сна Всё это работа натруженных ручек, Хоть незаметна бывает она. Ответ: _____	1							
	б) Какая бытовая техника заменила людей этой профессии? Ответ: _____	1							
11.	Какие профессии изображены на картинках:	1							

	<div data-bbox="188 91 1190 439"> </div> <p> <b>1.</b> _____; <b>2.</b> _____; <b>3.</b> _____.         </p>		
12.	<p><b>Отгадайте загадку.</b>            Не каток, а разглаживает, не паровоз, а пыхтит, трубы нет, а пар идёт.</p> <p><b>Ответ:</b> _____</p>	1	
13.	<p>Как называется русский народный промысел, родившийся в Московской губернии, который представляет собой производство керамики и фарфора, расписанных синими тонами по белому фону?</p> <div data-bbox="528 819 793 1140"> </div>	1	
14.	<p>Расположите буквы в правильном порядке, разгадайте зашифрованное слово, получите название рукоделия:</p> <p style="text-align: center;"><b>А В Е И З Н Я</b></p> <p><b>Ответ:</b> _____</p>	1	
15.	<p><b>Творческое задание</b>            а) Составьте меню полдника, включающее какао.</p> <p><b>Ответ:</b> _____            _____            _____</p>	1	
	<p>б) Перечислите продукты, которые Вам потребуются для приготовления этого полдника.</p> <p><b>Ответ:</b> _____            _____</p>	1	
	<p>в) Перечислите оборудование, которое Вам потребуется.</p> <p><b>Ответ:</b> _____            _____            _____</p>	1	
	<p>г) Опишите технологию приготовления какао.</p> <p><b>Ответ:</b> _____            _____            _____            _____</p>	2	

	<hr/>		
	<p>д) Предложите сервировку стола к этому полднику.</p> <p><b>Ответ:</b></p> <div></div>	<b>2</b>	
<b>Итого:</b>		<b>27</b>	